



Môn Toán lớp 3


**BÀI 51: DIỆN TÍCH CỦA MỘT HÌNH.
XĂNG – TI – MÉT VUÔNG (tiết 2)**

GV SOẠN GIẢNG: TRỊNH THỊ SƯƠNG

LỚP: 3C







Khám phá



Bài 51: XĂNG – TI – MÉT VUÔNG (Tiết 2)



Khám phá

Xăng-ti-mét vuông

Diện tích hình của mình lớn hơn.

Diện tích hình của mình lớn hơn chứ.

Muốn biết diện tích hình nào lớn hơn, ta phải dùng cùng đơn vị đo diện tích, chẳng hạn ô vuông một xăng-ti-mét vuông.

Xăng-ti-mét vuông là một đơn vị đo diện tích.

Xăng-ti-mét vuông là diện tích của hình vuông có cạnh dài 1 cm.

Xăng-ti-mét vuông viết tắt là cm^2 .



1 cm



Thứ Hai ngày 10 tháng 2 năm 2025

TOÁN

Bài 51: XĂNG – TI – MÉT VUÔNG (Tiết 1)



Hình chữ nhật bên gồm 3 ô vuông, mỗi ô vuông có diện tích 1 cm^2 .

Diện tích hình chữ nhật bên là 3 cm^2 .

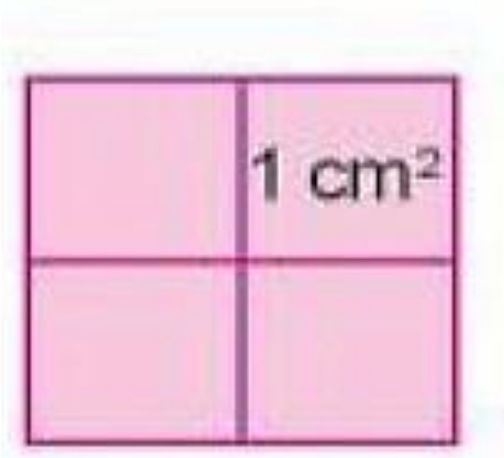
Đọc là: Ba xăng – ti – mét vuông



Hình vuông bên gồm 4 ô vuông, mỗi ô vuông có diện tích 1 cm^2 .

Diện tích hình vuông bên là 4 cm^2 .

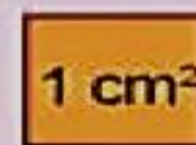
Đọc là: Bốn xăng – ti – mét vuông



Xăng-ti-mét vuông là một đơn vị đo diện tích.

Xăng-ti-mét vuông là diện tích của hình vuông có cạnh dài 1 cm.

Xăng-ti-mét vuông viết tắt là cm^2 .



1 cm



Thứ Hai ngày 10 tháng 2 năm 2025

TOÁN

Bài 51: XĂNG – TI – MÉT VUÔNG (Tiết 2)



1 Hoàn thành bảng sau (theo mẫu).

Đọc	Viết
Mười lăm xăng – ti – mét vuông	15 cm ²
Hai trăm ba mươi tư xăng – ti – mét vuông	234 cm ²
Một nghìn lăm trăm xăng – ti – mét vuông	1 500 cm ²
Mười nghìn xăng – ti – mét vuông	10 000 cm ²



Thứ Hai ngày 10 tháng 2 năm 2025

TOÁN

Bài 51: XĂNG – TI – MÉT VUÔNG (Tiết 1)



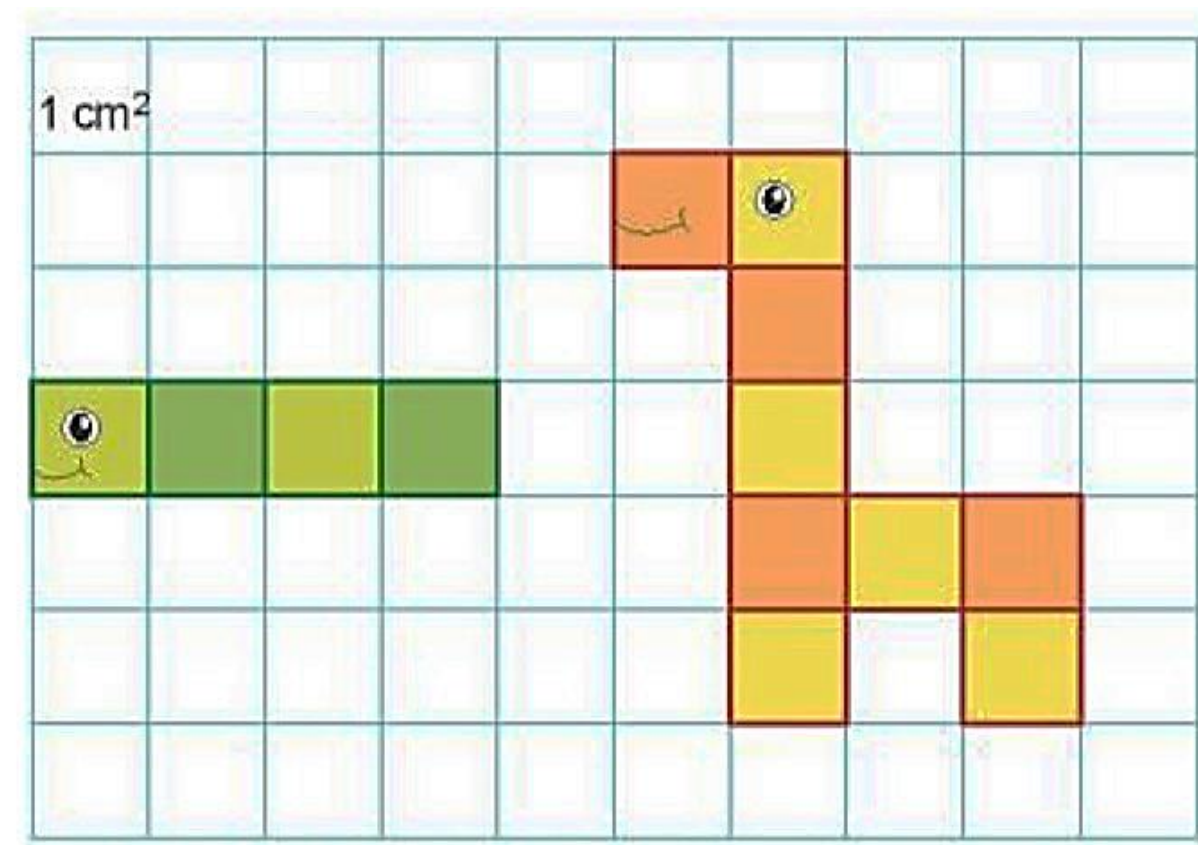
2 Hình con vật nào dưới đây có diện tích lớn hơn?

a) Hình con sâu gồm **4** ô vuông 1 cm^2 .

Diện tích hình con sâu bằng **4** cm^2 .

b) Hình con hươu cao cổ gồm **9** ô vuông 1 cm^2 .

Diện tích hình con hươu cao cổ bằng **9** cm^2 .



Thứ Hai ngày 10 tháng 2 năm 2025

TOÁN

Bài 51: XĂNG – TI – MÉT VUÔNG (Tiết 2)

Hoạt Động

Thứ Hai ngày 10 tháng 2 năm 2025

TOÁN

Bài 51: XĂNG – TI – MÉT VUÔNG (Tiết 2)



1 Hoàn thành bảng sau (theo mẫu).

Mẫu: $2 \text{ cm}^2 + 3 \text{ cm}^2 = 5 \text{ cm}^2$

$5 \text{ cm}^2 \times 2 = 10 \text{ cm}^2$

a) $37 \text{ cm}^2 + 25 \text{ cm}^2 = 62 \text{ cm}^2$

b) $15 \text{ cm}^2 \times 4 = 60 \text{ cm}^2$

$50 \text{ cm}^2 - 12 \text{ cm}^2 = 38 \text{ cm}^2$

$56 \text{ cm}^2 : 7 = 8 \text{ cm}^2$



Thứ Hai ngày 10 tháng 2 năm 2025

TOÁN

Bài 51: XĂNG – TI – MÉT VUÔNG (Tiết 2)

2 Cánh diều màu đỏ có diện tích 900 cm^2 . Cánh diều màu vàng có diện tích 880 cm^2 . Hỏi diện tích cánh diều màu đỏ hơn diện tích cánh diều màu vàng bao nhiêu xăng – ti – mét vuông?

Bài giải

Diện tích cánh diều màu đỏ hơn diện tích cánh diều màu là:

$$900 - 880 = 20 \text{ (cm}^2\text{)}$$

Đáp số: 20 (cm²)





XIN CHÂN THÀNH CẢM ƠN
QUÝ THẦY CÔ GIÁO VÀ CÁC EM

ALWAYS ON MY MIND

